

# 6. SINIF

## SOSYAL BİLGİLER TESTİ -4



1. Mustafa Kemal Atatürk "Gözlerimizi kapayıp yalnız yaşadığımızı varsayamayız. Ülkemizi bir çember içerisine alıp dünya ile ilgilenmeksizin yaşayamayız. Tersine gelişmiş, uygarlaşmış bir ulus olarak uygarlık alanının üzerinde yaşayacağız. Bu yaşam ancak bilim ve fenle olur. Bilim ve fen nerede ise oradan alacağız."

**Mustafa Kemal Atatürk'ün sözünden hareketle aşağıdakilerden hangisi söylenemez?**

- A) Dünyadaki gelişmelere uyum sağlanması gerektiği  
B) Akıl ve bilimle problemlerin çözülmesi gerektiği  
C) Bilimin, evrensel bir özelliğe sahip olduğu  
D) Geleneklere bağlı bir yaşamın önemsendiği

2. Aşağıdaki tabloda bilimsel araştırma basamakları verilmiştir.

1	Konu belirlenir. (ilgi duyulan, merak edilen bir problemin seçilmesi)
2	Konuyla ilgili kitap, dergi, gazete, genel ağ vb. kaynaklardan bilgi toplanır.
3	Sorunun çözümüne yönelik varsayımlarda (hipotez) bulunulur.
4	Kaynaklardan elde edilen notlar, konularına göre sınıflandırılır ve varsayımlara uygunluğu (hipotezler) test edilir.
5	Metin oluşturulur. Kullanılan kaynaklar kaynakçada belirtilir.

**Verilen bilimsel araştırma basamaklarının sıralamasının doğru olabilmesi için hangi ikisinin kendi aralarında yer değiştirmesi gerekir?**

- A) 1 ve 2  
B) 2 ve 3  
C) 3 ve 4  
D) 4 ve 5

3. Üniversiteyi bitiren Ali, öğrenimini Avrupa'da devam ettirmeye karar vermiştir. Gittiği ülkedeki iklimin, kendi ülkesindeki iklimden farklı özellikler gösterdiğini fark etmiştir. Sadece iklim değil, iklime bağlı olarak ---- de farklılık göstermektedir.

**Buna göre boş bırakılan yere aşağıdakilerden hangisi yazılırsa "iklime bağlı olmayan bir bilgi" verilmiş olur?**

- A) Ülkedeki maden çeşitleri  
B) Yetiştirilen tarım ürünleri  
C) İnsanların giyimleri  
D) Evlerde kullanılan yapı malzemeleri

4. Diyarbakır'da çevre kirliliğinin nedenlerini bilimsel araştırma konusu olarak seçen 6. sınıf öğrencisi Zeynep, bu konu ile ilgili araştırma yapmaya karar vermiştir.

**Buna göre Zeynep ilk olarak aşağıdakilerden hangisini yapmalıdır?**

- A) Sorunun çözümüne yönelik varsayımlar (hipotezler) yazmak  
B) Belirlenen problem hakkında gözlemler yaparak bilgi elde etmek  
C) Notları kontrol etme, metni oluşturma ve metni oluştururken kaynakları dipnot ile göstermek  
D) Kaynaklardan elde edilen notlar, konularına göre sınıflandırmak ve varsayımlar (hipotezler) test etmek

5. Ben Hindistan'ın batısında bulunan Gujarat (Gucerat) eyaletinde yaşıyorum. Yaşadığım yerde Muson ikliminin etkileri görülmektedir.

**Buna göre bu eyaletle ilgili,**

- I. Yaz aylarında bol yağış alır.  
II. Sık sık su taşkınları yaşanır.  
III. Pamuk ve piriç gibi tarım ürünleri yetişir.

**yargılarından hangileri söylenebilir?**

- A) Yalnız I  
B) I ve II  
C) I ve III  
D) I, II ve III

# 6. SINIF

## SOSYAL BİLGİLER TESTİ -4



6. Atatürk, bilim ve teknolojinin toplumsal gelişim için gerekli ve önemli olduğunu vurgulamıştır. Bilimsel düşünme becerisinin halk içinde yayılması için çaba harcamıştır. Cumhuriyet'in kuruluşunun ilk yıllarından itibaren Türkiye'deki bilim ve teknolojinin gelişimine yönelik çalışmalar yapılmıştır. Bu amaçla Sosyal Bilimler başta olmak üzere sağlık ve teknoloji alanlarında çeşitli kurumlar açılmıştır.

**Buna göre aşağıda verilen kurumlardan hangisi teknoloji dışında önemli çalışmalar yürütmektedir?**

- A) Türkiye Bilimler Akademisi (TÜBA)
- B) Türkiye Bilimsel ve Teknik Araştırma Kurumu (TÜBİTAK)
- C) Türk Tarih Kurumu (TTK)
- D) Türkiye Bilişim Vakfı (TBV)

7. *Ermenilere Bilimsel Cevap:*  
*Ermeni Diasporasının (herhangi bir ulusun ana yurtları dışında azınlık olarak yaşayan göçmen nüfusu) Mardin'in Nusaybin ilçesindeki toplu mezarlardaki kemik kalıntılarının Ermenilere ait olduğu iddialarına Prof. Dr. Yusuf Halaçoğlu, şu yanıtı verdi: "Toplu mezarlar sıra sıra değil rastgele, üst üste insanların atıldığı mezarlardır. Ayrıca bu mezarların kemik yapılarından 90 yıllık mı yoksa 2 bin yıllık mı olduğu çok rahat tespit edilebilir. İddialara neden olan toplu mezarların Türk antropologların yaptığı incelemelere göre Roma dönemine ait olduğu tespit edildi."*

**Bu parçada anlatılan durum aşağıdaki Sosyal Bilim dallarından hangisinin konu alanına girer?**

- A) Antropoloji
- B) Hukuk
- C) Kronoloji
- D) Filoloji

8. Günümüzde bilim ve teknolojinin bu kadar gelişmesini, hayatımızın bu kadar kolaylaşmasını bizden önce yaşayan bilim insanlarının yaptığı buluşlara borçluyuz. Gelişen teknoloji ve yapılan buluşlarla birlikte hayatımıza akıllı telefonlar, internet ve navigasyon girmiş böylece hayatımız daha da kolaylaşmıştır. Gelecekte de belki şuan hayal bile edemeyeceğimiz teknolojik aletler üretilecektir.

**Verilen açıklamaya en uygun başlık olarak aşağıdakilerden hangisi yazılabilir?**

- A) Bilim ve Teknolojinin Topluma Etkileri
- B) Geçmişten Geleceğe Yolculuk
- C) Bilim Adamlarının Özellikleri
- D) Teknolojinin Ekonomiye Etkileri

9. Nüfusun dağılışını etkileyen doğal ve beşeri faktörler vardır.

**Aşağıdakilerden hangisinin Türkiye'de nüfusun dağılışını etkileyen faktörler bakımından diğerlerinden farklı olduğu savunulabilir?**

- A) Antalya yaz turizminden dolayı nüfusun yoğun olduğu şehirlerimizden biridir.
- B) Tunceli iklim ve engebeli arazi koşullarından dolayı nüfusun seyrek olduğu bir ildir.
- C) Zonguldak taşkömürü çıkarılmasından dolayı nüfusu fazla olan illerimizdendir.
- D) Hakkari'nin sanayi, ticaret ve ulaşımı gelişmediği için nüfusu seyrek bir şehirdir.

10. Sosyal Bilimler, insanın insanla ve çevresiyle girdiği etkileşim sonucunda ortaya çıkan bilimler topluluğudur. Sosyal Bilimler, sadece geçmişi ve geçmişte yaşanan olayları incelemeyi amaçlamaz. Yapılan kazılar sonucunda elde edilen eski kalıntıları, para ve madalyonlardaki yazıların da inceler. Bunun yanında dünyayı ve çevremizi, insanın kökenini, toplumsal düzeni sağlayan yasaları da inceler.

**Buna göre Sosyal Bilimleri oluşturan bilim dalları arasında aşağıdakilerden hangisi gösterilemez?**

- A) Arkeoloji
- B) Nüvizmatik
- C) Biyoloji
- D) Sosyoloji

# 6. SINIF

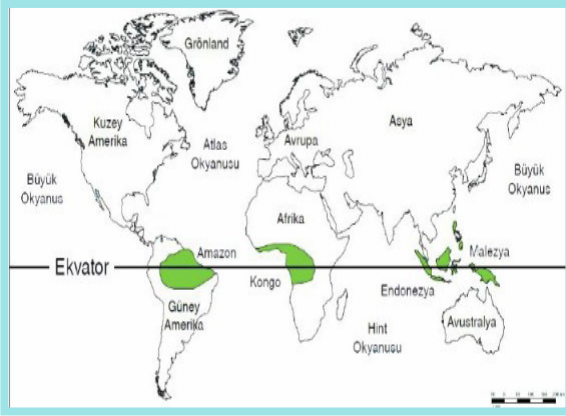
## SOSYAL BİLGİLER TESTİ -4



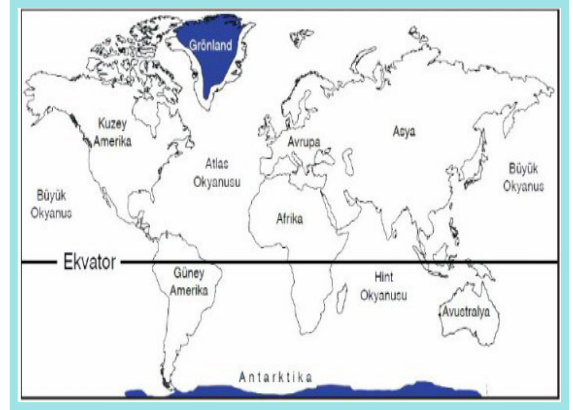
- 11.
- Bitki örtüsü gür ormanlardır. Yıl boyu yeşildir
  - Güneş ışınlarını her mevsim dar açılarla aldığı için günlük ve yıllık sıcaklık farkı çok azdır. (1-2°C)
  - Dünya'da en çok yağış alan Çerapunci (Hindistan) bu iklim bölgesinde yer alır. (12000 mm)
  - İnsan yaşamına çok uygun değildir. Belirli bölgelerinde yaşayan insanlara Eskimo denir. Buzdan yapılmış evlerine de İglo denir.

Aşağıda verilen Dünya haritalarında renkli gösterilen yerlerden hangileri ile ilgili bilgi verilmemiştir?

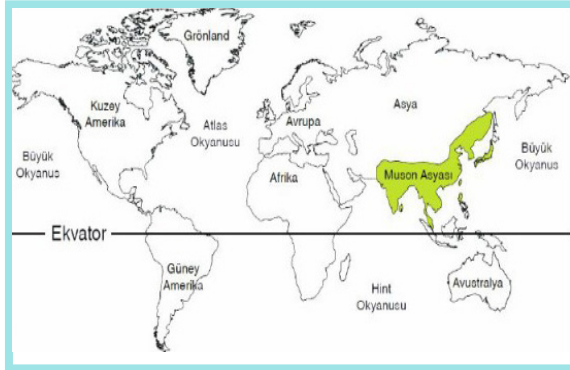
A)



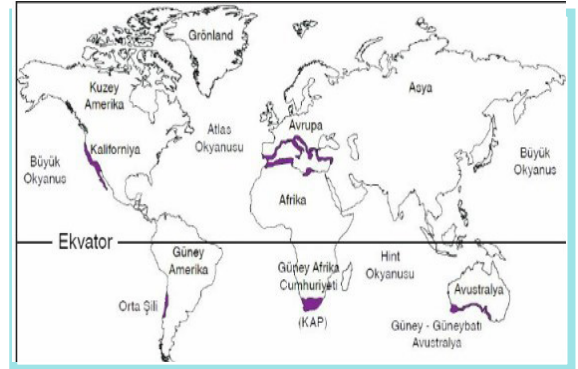
B)



C)



D)



# 6. SINIF

## SOSYAL BİLGİLER TESTİ -4



12.



Bizler Eskimo olarak tanınırız. Buzdan yapılan iglo aldı verilen evlerde yaşarız. Ulaşımımızı köpeklerin çektiği kızaklarla sağlarız. Yaşadığımız yerde bitki örtüsü olmadığı için buzları kırıp balıkçılık yaparak geçimimizi sağlarız.

**Bu açıklamayı yapan kişinin aşağıdaki iklim tiplerinden hangisinde yaşadığı söylenebilir?**

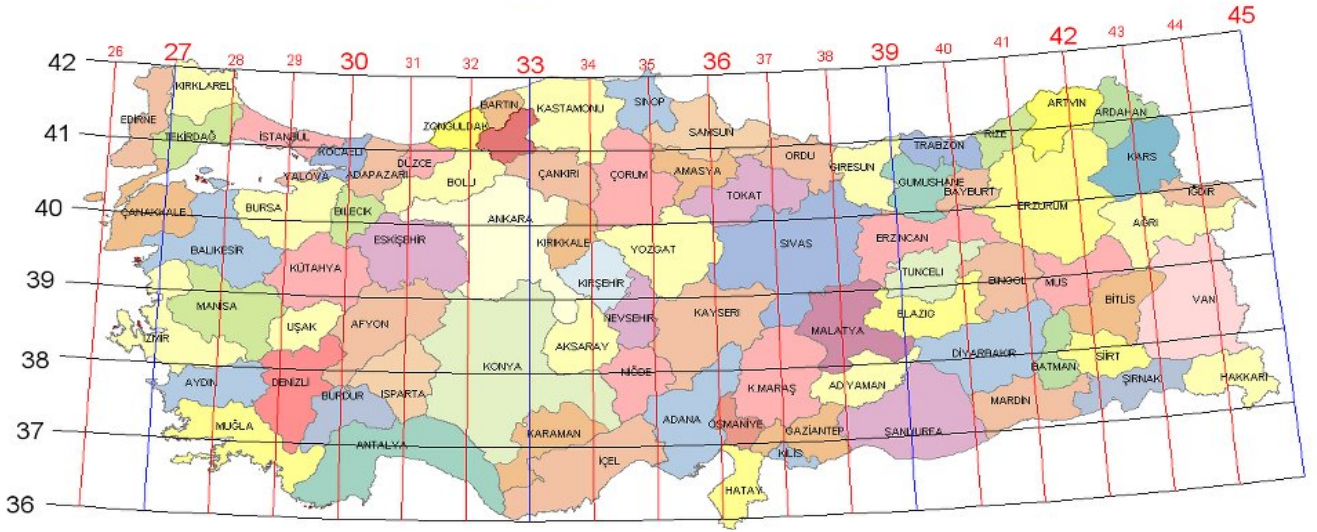
- A ) Akdeniz iklimi  
B) Ekvatorial iklim  
C) Kutup iklimi  
D) Muson iklimi

# 6. SINIF

## SOSYAL BİLGİLER TESTİ -4



13.



Ahmet: Babamın tayini  $40^{\circ}$  Kuzey Paraleli ile  $41^{\circ}$  Doğu Meridyeni'nin kesiştiği ilimize çıkmıştır.

**Ahmet'in verdiği bilgidен yola çıkarak babasının tayini haritada hangi ilimize çıkmış olabilir?**

- A) Hakkari B) Şanlıurfa  
C) Erzurum D) Diyarbakır

YAYIN KURULU	
Merdal AKSOY	Diyarbakır Ölçme Değerlendirme Merkezi
Ali AÇIKGÖZ	Mehmet Akif Ersoy İmam Hatip Ortaokulu
Bilal BAŞCAN	Şehit Öğretmen Nuriye Ak Ortaokulu
Cemile AKGÜNDÜZ	Mevlana Halit Ortaokulu
Nurettin ÜRE	Şehit Haşim Türkoğlu İmam Hatip Ortaokulu
Seyfettin ÖZBEK	İnönü Ortaokulu
Meral AY	Göksu Ortaokulu
Remziye Sevim	Hattat Hamit Aytaç Ortaokulu

1.D 2.B 3.A 4.B 5.D 6.C 7.A 8.A 9.B 10.C 11.D 12.C 13.C